



تَمَارِينٌ لِلْمُرَاجَعَةِ

1. أكْمَلْ بِالْعَدَدِ الْمُنَاسِبِ:



2. أكمل حسب الخطوة المنتظمة:



3. أكمل بالأعداد المناسبة في كل خانة:

بَعْدَ	الْعَدْدُ	قَبْلَ
...	5	...
...	...	7
4


1. اكتب العدد بالأرقام أو بالحروف:

...	←	خمسة
8	←
.....	←	تسعة

2. اكتب ثم اقارن:

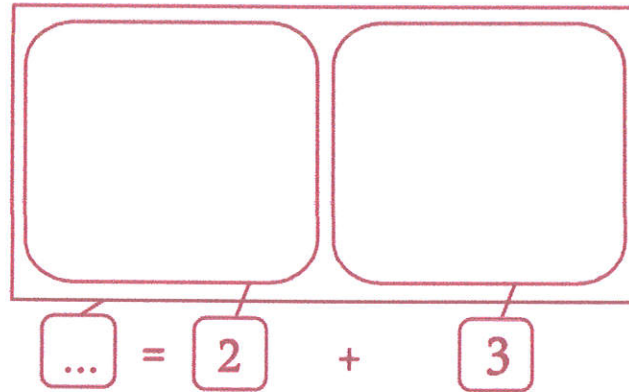
$3 + 5$	*	7	7	*	$3 + 5$
.....				
6	*	$4 + 1$	$4 + 1$	*	6
			
8	*	$3 + 4$	$3 + 4$	*	8
			

3. أكمل حسب المطلوب:




... = ... + ...

... = ... + ...



... = 2 + 3

4. أ. أصنف مجموعة الكرات حسب خاصية أختارها:



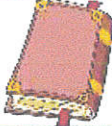
... = ... + ... + ...

4. ب. أربط ثم أكتب كم كل مجموعة:

4. ج. أحسب مجموع الكرات:

5. تملك سلمى 6 مي و يملك رامي 9 مي.
قصد الطفلان المكتبة لشراء هدية لسامي فوجدا هذه المغروضات:



قصة	بطاقة تهنئة	قلم
		
		
9 مي	7 مي مي

5.أ. أحسب ثمن القلم:

5.ب. أمثل ثمن البطاقة بأقل عدد ممكن من القطع النقدية:

5.ج. أكمل تمثيل ثمن القصة:

5.د. أعمر الفراغات بما يناسب:

★ يُريد سلمى شراء بطاقة التهنئة، هل تستطيع ذلك؟
لأن:

★ يُريد أمين شراء قصة، هل يستطيع ذلك؟
لأن: