
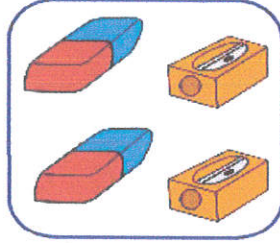


مَجْمُوعُ عَدَدَيْنِ مَجْمُوعُهُمَا أَصْغَرُ مِنْ 10


أضغ العلامه (+) و اكتب العدد المناسب في كل خانة:




..... +



..... +




..... +



..... +




..... +



..... +






..... +




..... +

ألون الكجات حسب المثال:



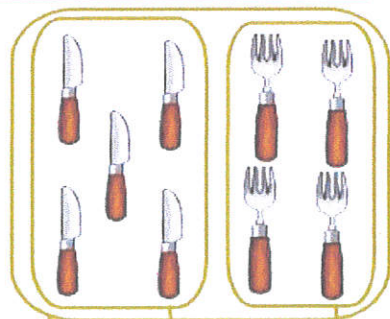
أكمل و احسب المجموع:



..... = +

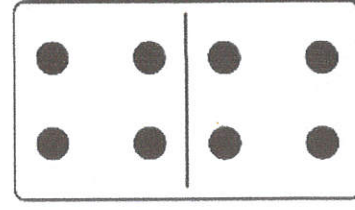




..... = +



..... = +

اربط بسهم بين العدد و قطعة الدومينو الموافقة له:






7

8

9

احسب مجموع النقاط على كل قطعة دومينو:





... = ... + ...




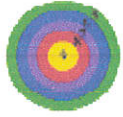
... = ... + ...

... = ... + ...

ارسم العدد المناسب من النقاط على قطعة الدومينو ليتوافق مع العدد الموجود أعلاها:



اربط بما يناسب:



احسب ثم اكمل:



1

+

1



.

+

.



2

+

2



.

+

.



3

+

3



.

+

.



4

+

4



.

+

.



5

+

5



.

+

.

أعيد كل كتابة جمعيّة مناسبة للمجموع المطلوب:


2 + 5 6 + 1 3 + 4
0 + 7 3 + 3 7 + 0 5 + 1
4 + 3 5 + 2 1 + 6

0 + 6 6 + 1 1 + 5
3 + 4 3 + 3 4 + 2
2 + 4 5 + 1 6 + 0

0 + 9 1 + 8 2 + 7
4 + 5 5 + 4 7 + 2
6 + 3 3 + 3 9 + 0
8 + 1 3 + 6 3 + 5

4 + 4 3 + 5 6 + 1
4 + 3 5 + 1 7 + 1
1 + 7 3 + 3 2 + 6
0 + 8 6 + 2 5 + 3

أحسب ثم ألون حسب المطلوب:



$$\dots = 2 + 1$$

$$\dots = 1 + 4$$

$$\dots = 2 + 2$$

$$\dots = 3 + 5$$

$$\dots = 0 + 1$$

$$\dots = 4 + 2$$

$$\dots = 3 + 4$$

$$\dots = 2 + 7$$

$$\dots = 1 + 1$$

أحسب ثم ألون حسب المطلوب:

10

9

7

6

4

