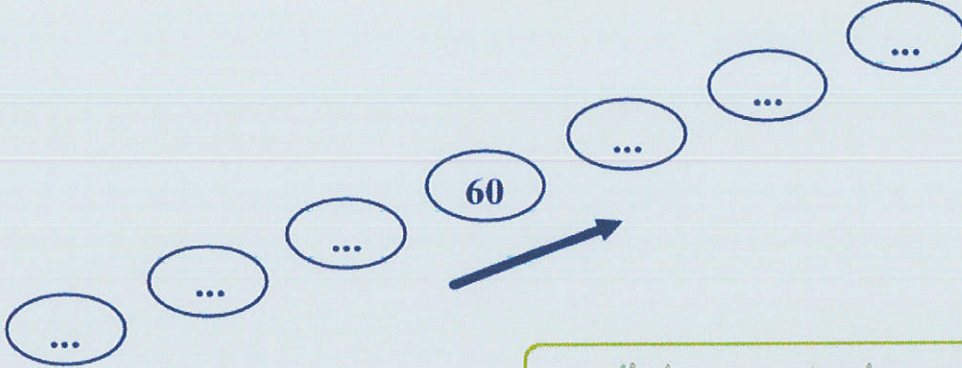
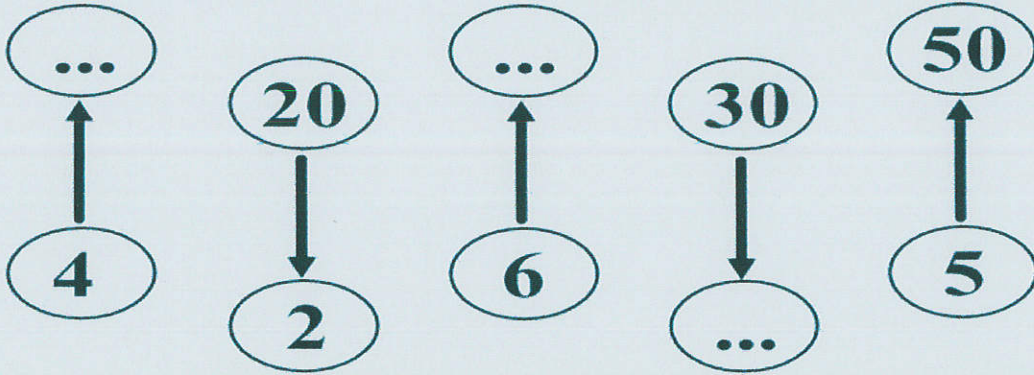


## العُقود

1. اكتشف قاعدة الانتظام و أوصل بالعُقود:



2. أكمل تغيير الفراغات حسب المطلوب:



3. اكتب جميع العُقود التي لاحظتها بالجنول مرتبة من الأكبر إلى الأصغر:

18	90	70
20	30	84
50	15	23

... < ... < ... < ... < ...

4. اكتب العُقود المخصوصة بين 30 و 70:

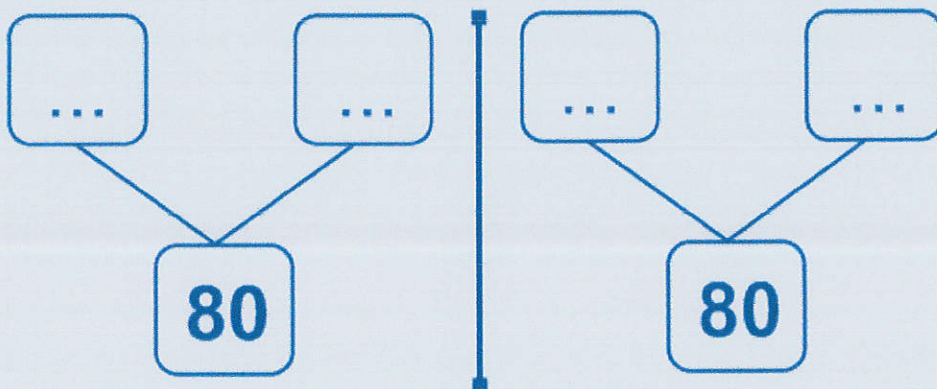
70 > ... > ... > ... > 30

5.أ. طنبث سئمی من أمین أن یعمر معها هذا الجدول، أساعدھما:

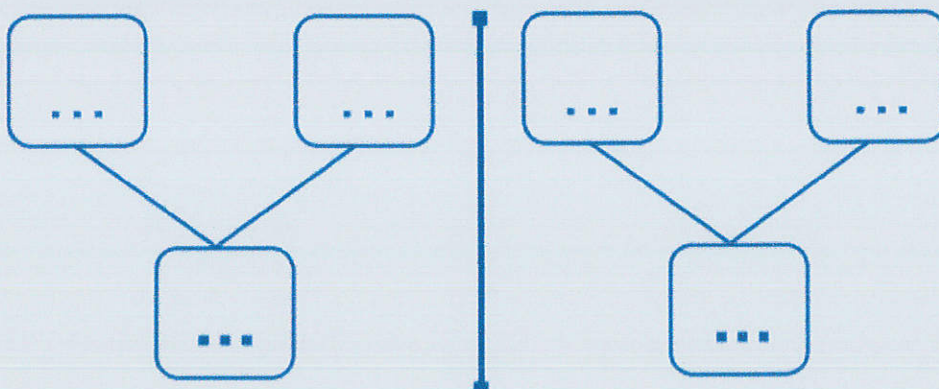
70	1	60	10	40	2	5	0	+
.	.	.	.	.	.	.	.	10
.	.	.	.	.	.	.	.	20

5.ب. أحيط كل عقد حصلت عليه بواسطة الجمع بخط منقق :

5.ج. أجمع كل عقدين لأحصل في كل مرة على 80 مستعينا بالجدول :



5.د. أبحث عن إمكانيات أخرى لأحصل على 80 :



6. أتمم كل كتابة جمعيّة بأعداد المناسب:

$$\dots + 50 = 80$$

$$50 = \dots + 30$$

$$\dots + 20 + 20 = 90$$

$$70 = \dots + 20$$

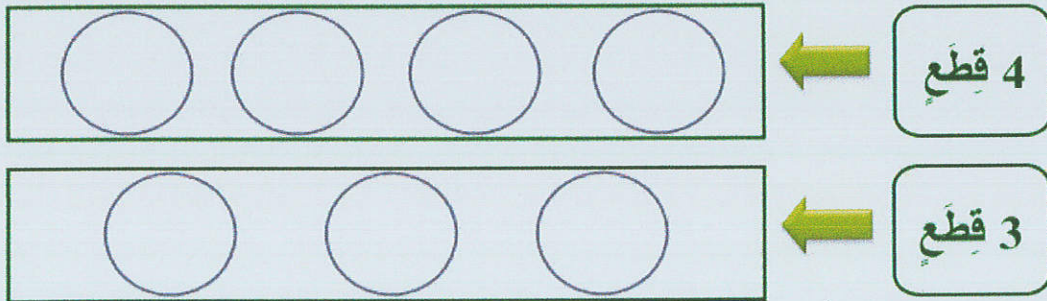
7. أفرغت سئمي حصّالتها فوجدت فيها:



7. أ. ما هو المبلغ الذي تملكه سئمي:

تمت سئمي : .....

7. ب. قالت سئمي يمكنني تمثيل هذا المبلغ بـ:



7. ج. أكتب قيمة القطع في الحالات الممكنة: