


الإختبار التقييمي لمادة الرياضيات

التّمرين عدد 1

ألاحظُ ثمَّ أكتبُ العددَ المناسبَ.



عدد 1 ب

--	--

.
1.5

عددُ الكلابِ في الصورة:

عددُ القططِ في الصورة:




عددُ الدجاجاتِ .

التَّمرين عدد 2

سَلِّئْ أُمِّي فِيهَا مَجْمُوعَةً مِنَ الْغَلَالِ .

أَكْمِلْ تَعْمِيرَ الْجَدْوَلِ بِكِتَابَةِ عَدَدِ كُلِّ نَوْعٍ.



النَّوعُ	الْعَدَدُ بِالْأَرْقَامِ	الْعَدَدُ بِلسَانِ الْقَلَمِ




عدد 1 أ

.

3

التَّمرين عدد 3

أَرَادَتْ مَلَائِكُ أَنْ تَشْتَرِيَ لِمَجَّةٍ لَكِنَّهَا لَمْ تَجِدْ نُقُودَهَا. تَقَدَّمَ مِنْهَا بَعْضُ الْأَصْدِقَاءِ لِمُسَاعَدَتِهَا.

أَعْطَتْهَا فَاطِمَةُ 4 مِ.

أَحْبَبْتُ بِخَطِّ مَغْلَقِ الْقِطْعِ الَّتِي تُمَثِّلُ هَذَا الْمَبْلَغَ بِطُرُقٍ مُخْتَلِفَةٍ.



عدد 5

.

2

قَدِّمِ لَهَا مَالِكٌ هَذَا الْمِقْدَارَ الْمَالِيَّ. أَحْسِبُهُ



مَالِكٌ

عدد 3

--	--	--

.
3

أَعْطَاهَا أَحْمَدُ 3 مِي. أُمِثِّلْ هَذَا الْمَبْلَغَ.



3 مِي




أَحْمَدُ

كَمَا أَعْطَتْهَا سَلِيمَةُ 4 مِي. أُمِثِّلْ هَذَا الْمَبْلَغَ حَسَبَ الْمَطْلُوبِ.



4 مِي



سَلِيمَةُ

التَّيْمِينِ عَدَد 4

أَكْمِلْ بِمَا يُنَاسِبُ مِنَ الْكَلِمَاتِ التَّالِيَةِ (الْيُمْنَى، عَلَى يَمِينِ، عَلَى يَسَارِ).

عدد 4 أ

--	--	--

.
3

تُمْسِكُ لَيْنَا الْمِحْفَظَةَ بِيَدِهَا

الشَّجَرَةَ لَيْنَا.

تَقِفُ لَجَيْنَ لَيْنَا.




لَجَيْنَ

لَيْنَا



التّمرين عدد 5

أَكْمِلْ بِمَا يُنَاسِبُ (أَكْثَرُ مِنْ ، عَلَى قَدَرٍ ، أَقَلَّ مِنْ).



مع 1 ج

--	--	--

مَجْمُوعَةُ السَّلَاتِ.

--	--	--	--

مَجْمُوعَةُ الْكُرَاتِ

مَجْمُوعَةُ الْكُرَاتِ.

--	--	--	--

مَجْمُوعَةُ اللَّاعِبِينَ

مَجْمُوعَةُ السَّلَاتِ.

--	--	--	--

مَجْمُوعَةُ السَّلَاتِ

.

1.5

التّمرين عدد 6

أَكْمِلْ رَسْمَ الْعُنَاصِرِ النَّاقِصَةِ حَسَبَ الْجَدْوَلِ.


خَارِجَ الْمَرْكَبِ	عَلَى يَسَارِ الصَّيَادِ	عَلَى يَمِينِ الصَّيَادِ	←
*			
	*		
		*	
		*	

مع 5

--	--

.

2



الإختبار التقييمي لمادة الرياضيات

الحساب الذهني

