



مِثَال عَنْ تَقْيِيمِ الثَّلَاثِي الثَّانِي

الحساب الذهني:

1. اكتب العدد الذي يأتي مباشرة بعد 4: 

2. اكتب العدد الذي يأتي مباشرة قبل 8: 

3. اكتب العدد المحصور بين 2 و 4: 

4. اكتب العدد المحصور بين 5 و 7: 

5. أنجز العملية التالية: $... = 2 + 6$

6. أنجز العملية التالية: $... = 1 + 2 + 4$

7. أكمل: $5 = ... + 3$

8. أكمل: $8 = ... + 5$

1. أُلَوِّنُ الْعَدَدَ الْمُنَاسِبَ:

4 7
3 > 7 8 < 6
8 5

2. أُرَتِّبُ الْأَعْدَادَ التَّالِيَةَ تَصَاعُدِيًّا (مِنَ الْأَصْغَرِ إِلَى الْأَكْبَرِ):

4 8 6
.....

1. أُرَتِّبُ الْأَعْدَادَ التَّالِيَةَ تَنَازُلِيًّا (مِنَ الْأَكْبَرِ إِلَى الْأَصْغَرِ):

6 3 9
.....

2. أُنْجِزُ الْعَمَلِيَّتَيْنِ التَّالِيَتَيْنِ:


... = 2 + 5

... = 6 + 3




الوضعية 1: (7 ن)

❖ تَسَلَّمَ أَمِينُ مِنْ وَالِدِهِ مَبْلَغًا مِنْ أَلْمَالِ فَأَشْتَرَى كُجَّةً
بِهَذِهِ الْقِطْعِ النَّقْدِيَّةِ:



(1) أَحْسَبُ ثَمَنَ الْكُجَّةِ:

❖ كَمَا اشْتَرَى أَيْضًا قِطْعَةَ حَلْوَى  ثَمَنُهَا 4 مي.
(2) أَوَاصِلُ تَمَثِيلِ ثَمَنِهَا:



(3) أَحْسَبُ ثَمَنَ مُشْتَرِيَاتِ أَمِينِ:



$$\dots = \dots + \dots$$



❖ أَمَّا سَلْمَى فَقَدْ تَسَلَّمَتْ مِنْ أَبِيهَا مَبْلَغًا قَدْرُهُ 8 مِي.
(4) أُمَّتُهُ بِأَقْلَّ عَدَدٍ مِنَ الْقِطْعِ النَّقْدِيَّةِ:



❖ دَخَلَتْ سَلْمَى إِلَى الْمَتَجَرِ فَوَجَدَتْ هَذِهِ الْمَعْرُوضَاتِ:

| | | | |
|---|------------|---|------------|
|  | بَالُونَةٌ |  | مَصَّاصَةٌ |
| | 9 مِي | | 7 مِي |

(5) أَكْمَلِ الْفَرَاغَ بِمَا يُنَاسِبُ:

- تَسْتَطِيعُ سَلْمَى شِرَاءَ الْمَصَّاصَةِ لِأَنَّ 
- تَسْتَطِيعُ سَلْمَى شِرَاءَ الْبَالُونَةِ لِأَنَّ 

الوضعية 2: (4.5 ن)

❖ لِخِيَاطَةِ فُسْتَانٍ لِابْنَتِهَا سَلَمَى اسْتَعْمَلَتِ الْأُمَّمَ: 3 أَزْرَارٍ كَبِيرَةً أَحْجَمَ

وَ 4 أَزْرَارٍ صَغِيرَةً أَحْجَمَ.

(1) أَحْسَبُ الْعَدَدَ الْجُمْلِيَّ لِلْأَزْرَارِ:

$$\dots = \dots + \dots$$

❖ كَمَا زَيَّنَتِ الْفُسْتَانَ بِ 3 أَزْهَارٍ حَمْرَاءَ وَ 5 أَزْهَارٍ صَفْرَاءَ .

(2) أَحْسَبُ الْعَدَدَ الْجُمْلِيَّ لِلْأَزْهَارِ الْحَمْرَاءِ وَ الصَّفْرَاءِ مَعًا:

$$\dots = \dots + \dots$$