

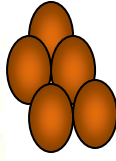
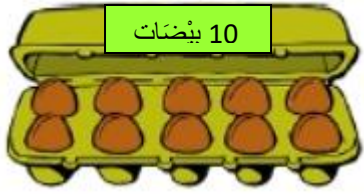
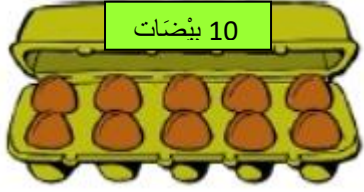


## الإختبار التّقيمي لِمَادَّة الرِّياضِيَّات

التّمرين عدد 1:

أَكْتُبُ العَدَدَ المُناسِبَ.



مع 1 أ

□ □ □

□ □ □

□ □ □

□ □ □

□ □ □

□ □ □

□ □ □

□ □ □

□ □ □

□ □ □

□ □ □

□ □ □

□ □ □

□ □ □

□ □ □

□ □ □

□ □ □

□ □ □

□ □ □

□ □ □

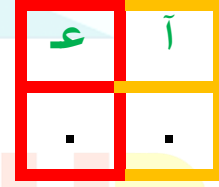
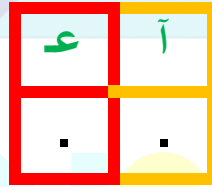
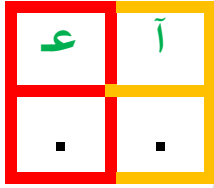
□ □ □

□ □ □

□ □ □



□ □ □

□ □ □



التّمرين عدد 2:

وَضَعَ الأَطْفَالُ فِي حَصَّالَتِهِمُ القِطْعَ النّقْدِيَّةِ التّالِيَةَ .

19 مِ	16 مِ	.....
		
سَلْمَى	مُحَمَّد	وَجِيه

مع 3

□ □ □

□ □ □

□ □ □

□ □ □

□ □ □

□ □ □

□ □ □

□ □ □

□ □ □

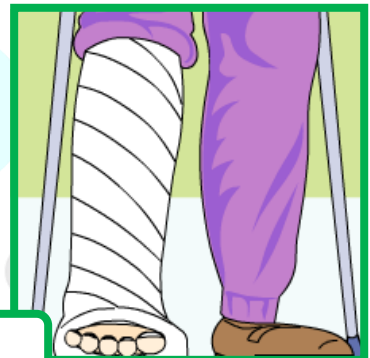
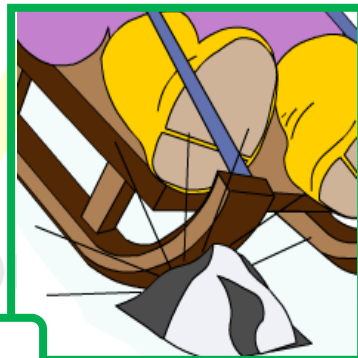

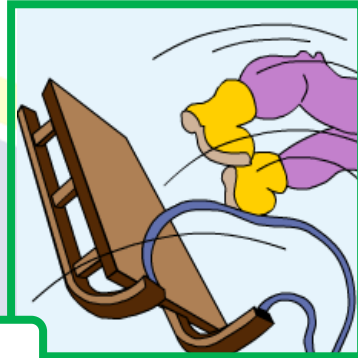
□ □ □

□ □ □

أَحْسِبُ مَبْلَغَ وَجِيهِ وَ أَعْمَرُ الْجَدُولَ.  
 أُمَثِّلُ الْمَبْلَغَ الَّذِي وَضَعَهُ مُحَمَّدٌ بِأَقْلٍ مَا يُمَكِّنُ مِنَ الْقِطْعِ النَّقْدِيَّةِ.  
 أَكْمِلُ تَمَثِيلَ مَبْلَغِ سَلْمَى.

التَّمرين عدد 3 :

أَرْتِبُ الْأَحْدَاثَ التَّالِيَةَ مِنْ 1 إِلَى 6.



التَّمرين عدد 4 :

أُكْمِلُ بِمَا يُنَاسِبُ.

$$14 = . + 6$$

$$12 = . + 8$$

$$10 = . + 4$$

مع 1 أ

--	--	--

--	--	--

1.5

مع 2 أ

--	--	--

1.5



## التّمرين عدد 5 :

أَكْمِلْ بِ عَلَى يَسَارٍ ، اليُسْرَى ، اليُمْنَى.

عَلَى كَتِفِ ابْنِهَا.


تَضَعُ الأُمُّ يَدَهَا

عَلَى كَتِفِ ابْنَتِهَا.


تَضَعُ الأُمُّ يَدَهَا

الأُمُّ


تَقِفُ القِطَّةُ

عد 4

--	--

■

1.5

## التّمرين عدد 6 :

إِيْمَانُ بِنْتُ عُمُرْهَا 12 سَنَةً. أَحْضَرَتْ مَجْمُوعَتَيْنِ مِنَ البَالُونَاتِ لِتَرْيِّينِ قَاعَةَ الجُلُوسِ.



أَخْتَارُ السُّؤَالَ المُنَاسِبَ وَ أَجْعَلُهُ دَاخِلَ إِطَارِ.

كَمْ عُمُرُ إِيْمَانِ؟

كَمْ عَدَدُ البَالُونَاتِ؟

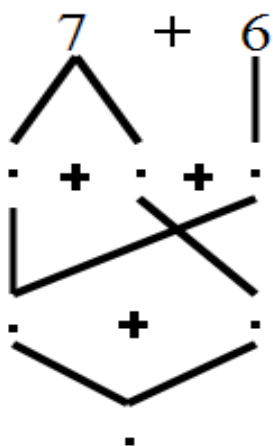
عد 5

--	--

■

4




أَجِيبُ عَنِ السُّؤَالِ الَّذِي اخْتَرْتُهُ مُسْتَعِينًا بِشَجَرَةِ الحِسَابِ.




مَا هُوَ عَدَدُ البَالُونَاتِ الحَمْرَاءِ ؟

مَا هُوَ عَدَدُ البَالُونَاتِ الخَضْرَاءِ ؟

## التمرين عدد 7 :

تَبَرَّعَ مُحَمَّدٌ لِمَدْرَسَتِهِ بِـ 5 أَقْلَامٍ حَمْرَاءَ  ، 4 أَقْلَامٍ زَرْقَاءَ  وَ 2 أَقْلَامَ خَضْرَاءَ .

أَحْسِبُ عَدَدَ الْأَقْلَامِ الْخَضْرَاءِ وَ الْأَقْلَامِ الْحَمْرَاءِ.

$$\cdot = \cdot + \cdot$$

أَحْسِبُ الْعَدَدَ الْجُمْلِيِّ لِلْأَقْلَامِ بِطَرِيقَتَيْنِ مُخْتَلِفَتَيْنِ بِاعْتِمَادِ الْخَاصِيَّةِ التَّجْمِيعِيَّةِ.

$$\cdot = \cdot + \cdot + \cdot$$

$$\cdot = \cdot + \cdot + \cdot$$



MANSOUR  
Modern school

مع 2 أ

--	--	--

--

·
---

1.5
-----

## الإختبار التقييمي لمادّة الرّياضيّات

### الحساب الذهنيّ

