


الإسم: .....  
 اللقب: .....  
 القسم: .....

العدد المسند 20 / .

1.

مع 1 أ


0.5 ن / ...



★ أمثلُ العَدَدَ 36 عَلَى الْمِعْدَادِ

مع 1 أ

0.5 ن / ...



★ أفكِّكُ العَدَدَ 54 حَسَبَ الصِّيغَةِ الْقَانُونِيَّةِ

مع 1 أ

0.5 ن / ...

★ ألَوِّنُ العَدَدَ الزَّوْجِيَّ:

27

16

2. أقرن الأعداد التالية بوضع العلامة = ، < ، > :

مع 1 ب


3 ن / ....

56	.	52	.	58	.	73
		9	.	61		


الإسم: .....  
 اللقب: .....  
 القسم: .....

3. اكتب العدد المناسب في كل خانة:


★ لإشراء مكتبة المدرسة اشترى المدير ما يلي:



★ قصصاً صغيرة الحجم عددها يمثل 3 عقود



★ قصصاً كبيرة الحجم عددها رقم عشراته 2 و رقم آحاده 7



★ مؤسوعات علمية عددها ضعف 20

★ أحسب العدد الجملي للقصص و المؤسسات

$$..... = ..... + ..... + .....$$

4. أكمل بما يناسب:

8	5	+
15	....	7
....	25	20

مع 1 أ

1.5 ن / ...

مع 2 أ

1 ن / ....

مع 2

2 ن / ....

الْوَضِيعَةُ 1

جَمَعَ الإخوةُ الثلاثةُ مَرَامٌ وَ حَسَّانُ وَ فَادِي نُقُودَهُمْ لِشِرَاءِ مَجَلَّاتٍ.

◦ تَمَلِكُ مَرَامٌ 60 مِي

◦ وَ يَمَلِكُ حَسَّانُ 50 مِي

◦ أَمَا فَادِي فَيَمَلِكُ مَبْلَغًا يَفُوقُ مَبْلَغَ مَرَامٍ بِـ 4 مِي.

1 أَضْعُ عَلَامَةً أَمَامَ السُّؤَالِ الْمُنَاسِبِ لِلْوَضِيعَةِ:

كَمْ تَمَلِكُ مَرَامٌ؟

مَا هُوَ عَدَدُ الْمَجَلَّاتِ؟

كَمْ يَمَلِكُ فَادِي؟

2 أُجِيبُ عَنِ السُّؤَالِ الَّذِي إِخْتَرْتَهُ بِكِتَابَةِ الْإِجَابَةِ اللَّفْظِيَّةِ ثُمَّ أَنْجِزْ

الْعَمَلِيَّةَ:

																			☆
																			☆

مع 5

ن1 / ....

مع 5

ن1 / ....

الْوَضِيعَةُ 2

بقي لِأَمِينُ ، سَلَمَى وَ خَلِيلِ الْمَبَالِغِ التَّالِيَةِ:

1 أَحْسَبُ مَبْلَغَ أَمِينِ:




..... هي

مع 3

3/ن /....


2 أَوَاصِلُ تَمَثِيلِ مَبْلَغِ خَلِيلِ:



47 هي

3 أَمَثِلُ مَبْلَغِ سَلَمَى بِأَقْلِّ عَدَدٍ مُمَكِّنٍ مِنَ الْقِطْعِ:

72 هي



مع 5

2/ن /....

4 أَرَادَتْ سَلَمَى شِرَاءَ مَصَّاصَةٍ بِـ 76 هي

فَقَالَ لَهَا أَمِينُ "يَجِبُ أَنْ تُضِيفِي 2 هي":



76 هي

أَعْلِلْ إِجَابَتِي

☆ هَلْ أَصَابَ أَمِينُ

لِأَنَّ