



تدريب على الامتحان عدد 1

1. أكمل حسب المطلوب:




2. اكتب الأعداد المخصوصة بين 24 و 29:




3. اكتب ثم أكمل:

$\dots = 30 + 23$	$\dots = 50 + 5$
$\dots = 60 + 19$	$\dots = 7 + 60$

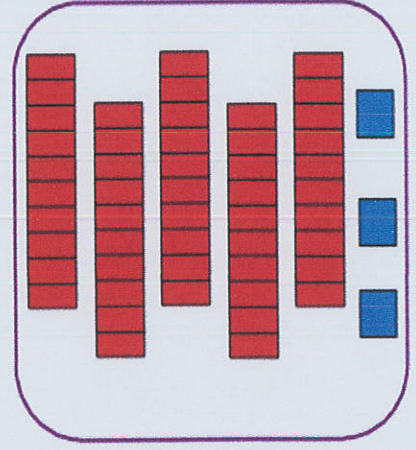
1. اكتب العدد المناسب أو أكمل تمثيل العدد:



71



39




...

2. احسب ثم أكمل الجدول:

النوع	العدد	إنتاج المصنع في الفترة الصباحية	إنتاج المصنع في الفترة المسائية	إنتاج المصنع في الجملة
ملابس النساء	41	21
ملابس الرجال	35	22
ملابس الأطفال	22	35
المجموع

3. أثناء فترة الراحة، أخرجت سلمى ما تملك من نقود، فوجدت القطع التالية:



أ. أحسب المبلغ الذي تملكه سلمى :

تَمَلِكُ سَلْمَى مِي


3. ب. و أخرج رامي ما يملك فوجد في حافظة نقوده 90 مي، أمثل هذا المبلغ :

.....

3. ج. اشترى كل واحد قطعة شكلاطة، فبقي لسلمى 10 مي و بقي لرامي 20 مي،
أحسب المبلغ الذي بقي لهما :

... + ... = ... مِي

د. أمثل هذا المبلغ بأقل عدد من القطع:



4. توجهت ريم إلى المكتبة و معها هذا المبلغ:



أرادت شراء بطاقة ملونة ثمنها 90 مي، أطرح سؤالاً مناسباً للوضعية و أجيب عنه:

السؤال:

الجواب: