


تدريب على الامتحان عدد 3

1. أكمل بالعدد المناسب:

العدد الذي يأتي مباشرة بعد	العدد	العدد الذي يأتي مباشرة قبل
...	23	...
...	70	...
...	54	...
...	18	...
...	61	...
...	49	...

2. أكمل بالعدد المناسب:



3. اكتب في الفراغ العدد المناسب:

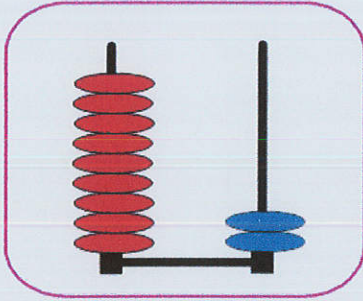
... < 43 < ...

... < 80 < ...

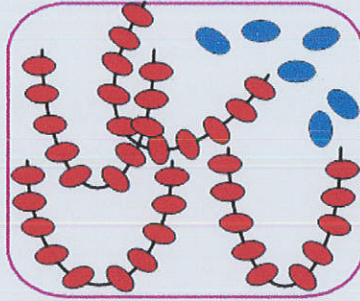
... < 61 < ...

... < 40 < ...

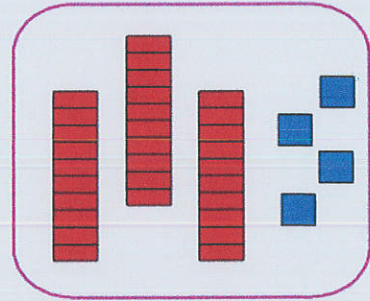
1. اكتب العدد الممثل:



...

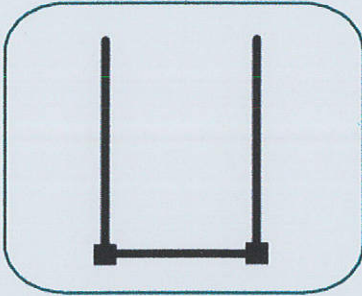


...

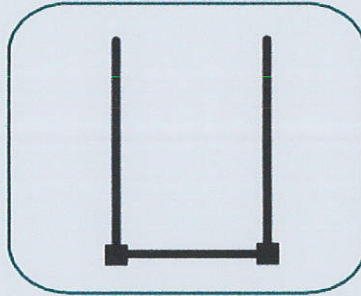


...

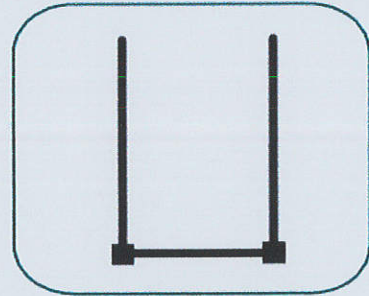
2. املأ العدد المطلوب:



48




62



54

3. هذا مخطط المسافة التي يقطعها أبي بسيارته كل يوم إلى المصنع بالكيلومتر،
أحسب قيس طول المسافة بالكيلومتر:



$$\begin{array}{r}
 + \quad \dots \quad \dots \\
 + \quad \dots \quad \dots \\
 \hline
 \dots \quad \dots
 \end{array}$$

طول الأمسافة التي يقطعها أبي:

$$\dots = \dots + \dots + \dots$$

4. جمعت سلمى 23 صدفة مستديرة الشكل، و 12 صدفة لولبية الشكل:



عَدُّ الْأَصْدَافِ الَّتِي جَمَعَتْهَا سَلْمَى :

$$\begin{array}{r}
 \dots \dots \\
 + \dots \dots \\
 \hline
 \dots \dots
 \end{array}
 \quad \dots = \dots + \dots$$

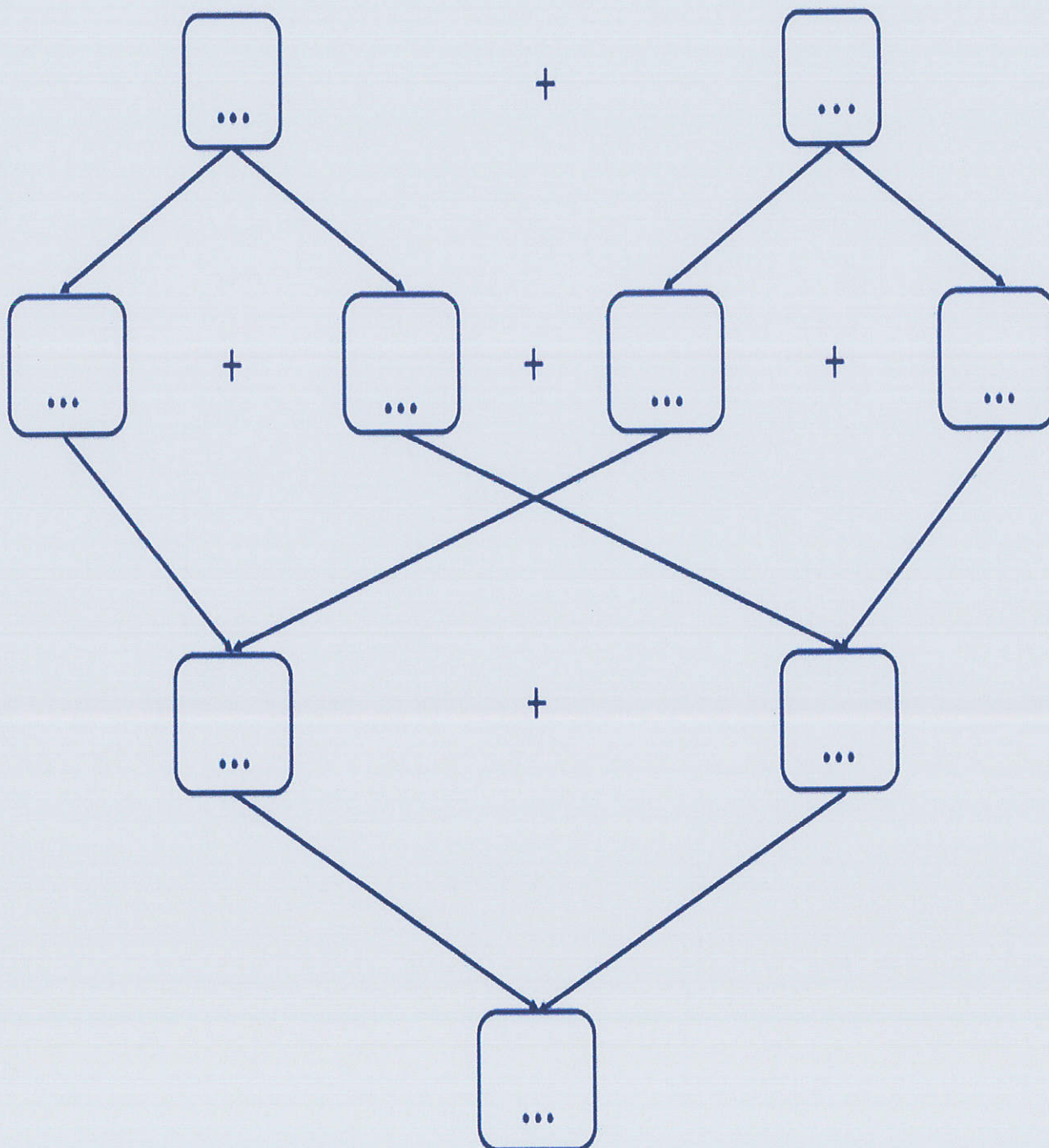
4.ب. أمّا أمين فقد جمع عدداً من الأصداف أكبر من عدد أصداف سلمى بـ 11،
أبحث عن عدد أصداف أمين :



عَدُّ أَسْدَافِ أَمِينِ :

$$\begin{array}{r}
 \dots \dots \\
 + \dots \dots \\
 \hline
 \dots \dots
 \end{array}
 \quad \dots = \dots + \dots$$

3.ج. أبحث عن العدد الجملي للأصداغ مُستعيناً بالمخطط التالي :



5. يملك الأطفال المبالغ التالية :



أمِينُ



رَامِي



سَلْمَى

5. أ. أحسب المبلغ الذي تملكه سلمى:

5. ب. أمتل المبلغ الذي يملكه رامي:

5. ج. أكمل تمثيل المبلغ الذي يملكه أمين:

5. د. أحسب المبلغ الذي يملكه الأطفال :

المبلغ الذي يملكه الأطفال :

+	
+	
+	
_____	... = ... + ... + ...
.. ..	