


السنة : الأولى	السنة الدراسية : 2012 / 2013
امتحان الثلاثي الأول في الإيقاظ العلمي	الإسم و اللقب :

امتحان الثلاثي الأول

السند 1:

رافق رأمي والدة إلى السرك فشهد العرض التالي.

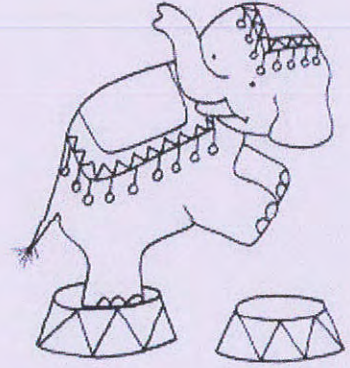


التعليمة 1 : أضع علامة (x) تحت الكرة الموجودة أمام الكلب. (2ن) (مع 2)

التعليمة 2: ألون الكلاب الموجودة فوق الحبل. (1ن) (مع 1)

السند 2 :

حلّ عرض المهرج فوفو و الفيلة.



التعليمة 1: ألون أعلى كرة بالنسبة للمهرج. (ان) (مد) (1)

التعليمة 2: أحيط بخط مغلق الكرة الموجودة في اليد اليمنى للمهرج. (2ن) (مد) (1)

التعليمة 3: أضع علامة (x) فوق الفيل الموجود على يمين المهرج. (2ن) (مد) (2)

السند 3 :

بعد ذلك شاهدنا عرض القردة.



التعليمة 1: ألون أعلى قرد. (ان) (مد) (1)

التعليمة 2: أضع علامة (x) تحت الكرة

الموجودة تحت القردة. (2 ن) (مد) (1)

السند 4:


أخيراً قدّم مروض الأسود العرّض التالي.



التعليمة 1: أضع علامة (x) وراء الأسد الموجود أمام المروض. (2ن) (عد 2)

السند 5:

بعد انتهاء العرّض غادر رامي ووالده خيمة السرك فتوقفا بجانب
بركة مياه فشاهدا ضفادع تقفر و أخرى تتعدى .



التعليمة 1: ألون الحشرة التي تستطيع الضفدعة أكلها بسرعة. (1ن) (عد 1)



التعليمة 2: أختار التعليل المناسب بتلويينه. (1ن) (عد 1)

لأن الحشرة أمام الضفدعة

لأن الحشرة وراء الضفدعة

السند 6:

ذَهَبَ رَامِي وَ أَبُوهُ لِيَرْكَبَا السَّيَّارَةَ .



السَّيَّارَةُ

رَامِي

الْحَافِلَةُ

التَّعْلِيمَةُ 1: أَتأملُ الصُّورَةَ وَالْوَنُ كُلَّ إِفَادَةٍ صَحِيحَةٍ. (3ن) (مع3)

رَامِي وَرَاءَ السَّيَّارَةِ.

الْحَافِلَةُ عَلَى يَسَارِ رَامِي.

رَامِي أَمَامَ الْحَافِلَةِ.

السند 6:

اشْتَرَى رَامِي بَاقَةَ أَزْهَارٍ لِأُمِّهِ وَعِنْدَمَا وَصَلَ إِلَى الْمَنْزِلِ خَبَّأَهَا أَمَامَهُ.

التَّعْلِيمَةُ 1: أَتأملُ الصُّورَةَ ثُمَّ أُصْلِحُ الْخَطَّ بِشَطْبِ الْإِجَابَةِ الْخَاطِئَةِ. (2ن) (مع3)



➤ بَاقَةُ الْأَزْهَارِ أَمَامَ رَامِي.

➤ بَاقَةُ الْأَزْهَارِ وَرَاءَ رَامِي.

➤ بَاقَةُ الْأَزْهَارِ عَلَى يَمِينِ رَامِي.