

إِمْتِحَانُ السَّنَةِ الثَّانِيَةِ فِي الْإِقَاطِ الْعِلْمِيِّ

الإسم:

النَّقب:

القسم:

1. أضع في إطار كل إجابة صحيحة: (2.5ن)

*عندما يُشيرُ عقربُ الدَّقَائِقِ إِلَى رَقْمِ "3" يُوَافِقُ:

- ثَلَاثَ دَقَائِقَ

- رُبْعَ السَّاعَةِ

- خَمْسَةَ عَشَرَ دَقِيقَةً

- السَّاعَةَ الثَّلَاثَةَ

* كَلِّمَا مَرَّةً عَقْرَبُ الدَّقَائِقِ مِنْ رَقْمٍ لِأَخْرَ نُضِيفُ :

- سَاعَةً

- دَقِيقَةً وَاحِدَةً

- خَمْسَ دَقَائِقَ

- ثَانِيَةً وَاحِدَةً

* تَتَكَوَّنُ السَّاعَةُ مِنْ :

- اِثْنَيْ عَشَرَ رَقْمًا

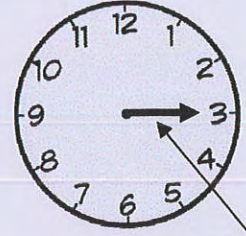
- سِتِّينَ رَقْمًا

- ثَلَاثَةَ عَقَارِبَ

- عَقْرَبٍ وَاحِدٍ

2. أَكْمِلِ النَّاقِصَ فِي السَّاعَةِ ذَاتِ الْعَقَارِبِ وَ فِي التَّوْقِيتِ الْمَكْتُوبِ بِلِسَانِ الْقَلَمِ: (3ن)

السَّاعَةُ الْحَادِيَةَ عَشَرَ وَ.....



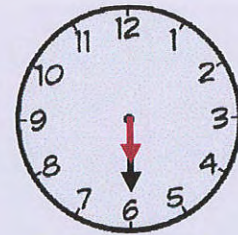
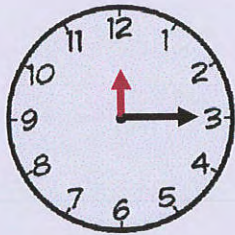
عُزْبُ الدَّقَائِقِ

السَّاعَةُ.....



عُزْبُ السَّاعَاتِ

3. أَلَوِّنِ التَّوْقِيتَ الْمُنَاسِبَ لِكُلِّ سَاعَةٍ: (1.5ن)



السَّاعَةُ الثَّانِيَةُ وَ الرَّبْعُ

السَّاعَةُ السَّادِسَةُ وَ الرَّبْعُ

السَّاعَةُ الثَّانِيَةَ عَشَرَ وَ الرَّبْعُ

السَّاعَةُ السَّادِسَةُ وَ النِّصْفُ

السَّاعَةُ الثَّانِيَةَ عَشَرَ وَ النِّصْفُ

السَّاعَةُ السَّادِسَةُ وَ ثَلَاثُونَ دَقِيقَةً

4. هَذِهِ الْأَعْمَالُ الَّتِي قَامَ بِهَا وَلِيدُ يَوْمِ الْأَحَدِ:

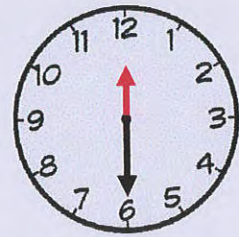

① أَفَاقَ وَلِيدُ يَوْمِ الْأَحَدِ عَلَى **السَّاعَةِ الثَّامِنَةِ وَ عِشْرِينَ دَقِيقَةً**

② تَنَاوَلَ فَطُورَ الصَّبَاحِ ثُمَّ ذَهَبَ إِلَى نَادِي الرِّيَاضَةِ عَلَى **السَّاعَةِ الْعَاشِرَةِ وَ الرَّبْعِ**

③ أَحَسَّ بِالتَّعَبِ فَعَادَ إِلَى الْمَنْزِلِ لِتَنَاوُلِ وَجِبَةِ الْغَدَاءِ عَلَى

السَّاعَةِ الثَّانِيَةِ عَشَرَ وَ ثَلَاثِينَ دَقِيقَةً.

أَرْتَبُ هَذِهِ الْأَعْمَالَ بِوَضْعِ الْأَرْقَامِ (1 - 2 - 3) تَحْتَ كُلِّ سَاعَةٍ : (ن2)




5. أَشْطَبُ الْإِجَابَةَ الْخَاطِئَةَ وَ أَرْتَبُ مَرَاكِحَ نُمُوِّ الْبُذْرَةِ: (ن4)



تَنْمُو السُّوَيْقَةُ وَ تَنْجُهِ إِلَى الْأَسْفَلِ

تَنْمُو السُّوَيْقَةُ وَ تَنْجُهِ إِلَى الْأَعْلَى



اسْتِطَالَةُ السَّاقِ وَ ظُهُورُ الثَّمَارِ

اسْتِطَالَةُ السَّاقِ وَ ظُهُورُ الْأُورَاقِ



إِنْتِفَاحُ الْبُذْرَةِ بِمَفْعُولِ الرُّطُوبَةِ

إِنْتِفَاحُ الْبُذْرَةِ بِمَفْعُولِ الْهَوَاءِ



يَنْمُو الْجَذِيرُ وَ يَنْجُهِ إِلَى الْأَسْفَلِ

يَنْمُو الْجَذِيرُ وَ يَنْجُهِ إِلَى الْأَعْلَى

6. أَرَسُّمُ مُسْتَوَى السَّائِلِ فِي الْأَنْبُوبِ . (1 ن)
7. أَكْمَلْ بِـ " تَدْبِيلٌ " أَوْ " تَنْمُو " وَ أَعْلِلْ إِجَابَتِي : (3 ن)

النبتة لأنها

زَيْتٌ

بَعْدَ أَيَّامٍ

Diagram description: A test tube containing a plant with roots submerged in a liquid labeled 'زَيْتٌ' (oil). An arrow points to the left, labeled 'بَعْدَ أَيَّامٍ' (after days). To the left of the arrow is another test tube, empty, with a dashed box for writing. The text 'النبتة لأنها' (the plant because) is written at the top of the dashed box.

النبتة لأنها

ماءٌ

بَعْدَ أَيَّامٍ

Diagram description: A test tube containing a plant with roots submerged in a liquid labeled 'ماءٌ' (water). An arrow points to the left, labeled 'بَعْدَ أَيَّامٍ' (after days). To the left of the arrow is another test tube, empty, with a dashed box for writing. The text 'النبتة لأنها' (the plant because) is written at the top of the dashed box.

8. أَشْطَبُ كُلِّ تَأْثِيرٍ خَاطِيٍّ لِقُوَّةٍ : (3ن)

إِقَافُ جِسْمٍ مُتَحَرِّكٍ .

تَغْيِيرُ شَكْلِ الْجِسْمِ .



خَبَازٌ يَعْجِنُ الْعَجِينَ

تَحْرِيكُ جِسْمٍ سَاكِنٍ .

إِقَافُ جِسْمٍ مُتَحَرِّكٍ .



حَارِسُ الْمَرْمَى يَتَلَقَّفُ الْكُرَةَ

تَغْيِيرُ اتِّجَاهِ حَرَكَةِ الْجِسْمِ .

إِقَافُ جِسْمٍ مُتَحَرِّكٍ .



اللَّاعِبُ يُعِيدُ الْكُرَةَ بِضَرْبَةٍ رَأْسِيَّةٍ