

## تَمَارِينٌ لِلْمُرَاجَعَةِ

التَّمرِينُ 1 :



أُنْجِزُ الْعَمَلِيَّاتِ التَّالِيَةَ:

$$\begin{array}{r} 800 \\ - 500 \\ \hline \end{array}$$

$$\begin{array}{r} 87 \\ - 43 \\ \hline \end{array}$$

$$\begin{array}{r} 27 \\ + 53 \\ + 18 \\ \hline \end{array}$$

التَّمرِينُ 2 :



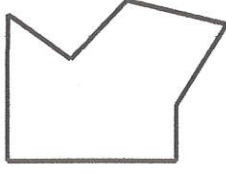
نُورُ	أَحْمَدُ	نَهَالُ
		
700 مي	600 مي	..... مي

1. أَحْسِبُ مَبْلَغَ نَهَالٍ.

2. أُمَثِّلُ مَبْلَغَ أَحْمَدَ بِأَقْلَ عَدَدٍ مِنَ الْقِطَعِ النَّقْدِيَّةِ.

3. أَكْمَلُ تَمَثِيلَ مَبْلَغِ نُورٍ بِ 3 قِطَعِ نَقْدِيَّةِ.

التّمرين 3 :



.....

.....

.....

1. أضع علامة ( X ) داخل كل مُضلعٍ.

2. أكتب تحت كل مُضلعٍ نوعه.


3. أوصل الرّسم التّالي لِتَحْصَلَ عَلَى سُدَاسِيٍّ أَضْلَاعٍ.



الوَضِيعَةُ 1 :

تُنْفِقُ عَائِلَةٌ فِي اسْتِهْلَاكِ الْكَهْرَبَاءِ وَالْغَازِ كُلَّ شَهْرَيْنِ مُعَدَّلَ 39 د لِاسْتِهْلَاكِ الْغَازِ وَمَبْلَغًا يَفُوقُهُ بِ16 د لِاسْتِهْلَاكِ الْكَهْرَبَاءِ.

التّعليمَةُ 1: أَحْسِبْ قِيَمَةَ اسْتِهْلَاكِ الْكَهْرَبَاءِ :



.....

التَّعْلِيمَةُ 2: أَحْسِبْ ثَمَنَ اسْتِهْلَاكِ الْكَهْرَبَاءِ وَالْغَازِ مَعًا:

	.....
	.....

لِلتَّخْفِيزِ مِنْ هَذَا الِاسْتِهْلَاكِ قَرَّرَ أَفْرَادُ الْعَائِلَةِ شِرَاءَ سَخَّانٍ شَمْسِيٍّ. بَعْدَ تَرْكِيبِ هَذَا السَّخَّانِ صَارَ مُعَدَّلُ قِيَمَةِ الِاسْتِهْلَاكِ لِهَذِهِ الْعَائِلَةِ 72 د.

التَّعْلِيمَةُ 3: أَحْسِبْ قِيَمَةَ الْمَبْلَغِ الَّذِي وَفَّرْتَهُ الْعَائِلَةُ:

	.....
	.....

الْوَضْعِيَّةُ 2:

بِمُنَاسَبَةِ مَوْسَمِ التَّخْفِيزَاتِ، اشْتَرَتْ أُمِّي فُسْتَانًا ثَمَنُهُ الْأَصْلِيُّ 89 د فَخَفَّضَ لَهَا الْبَائِعُ 15 د.

التَّعْلِيمَةُ 1: أَطْرَحُ سُؤَالَ مُنَاسِبًا لِهَذِهِ الْوَضْعِيَّةِ:

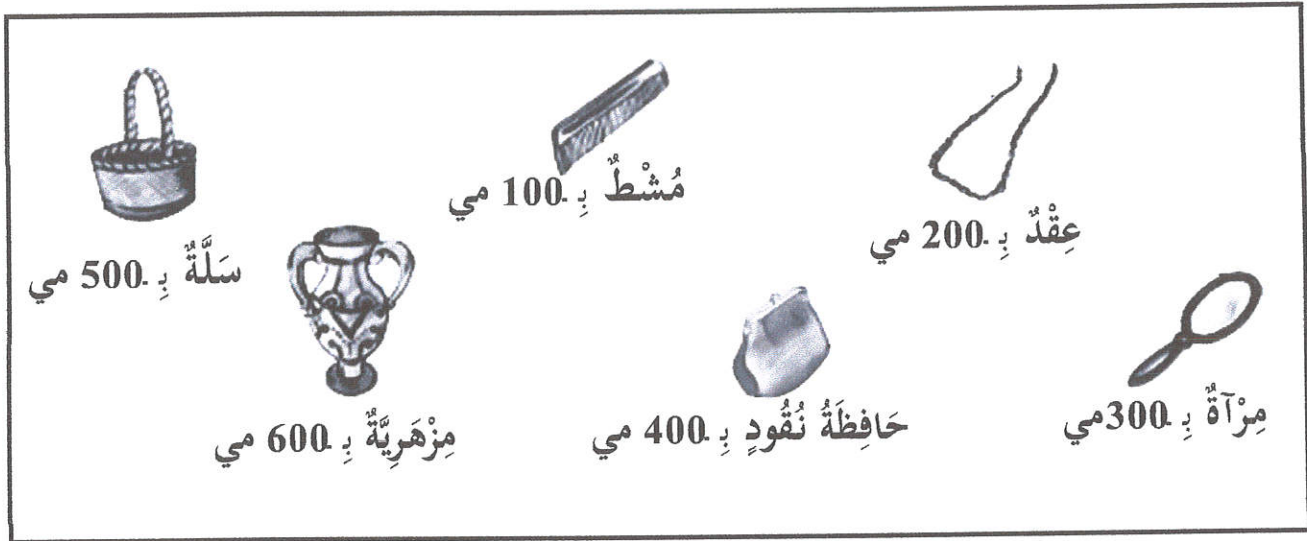
التَّعْلِيمَةُ 2: أَجِبْ لَفْظِيًّا عَنِ السُّؤَالِ الَّذِي طَرَحْتَهُ وَأُنْجِزِ الْعَمَلِيَّةَ الْمُنَاسِبَةَ:

	.....
	.....

## الْوَضِيعَةُ 3 :

تَوَجَّهَتْ رِيمُ إِلَى السُّوقِ الْأُسْبُوعِيَّةِ وَفِي جَيْبِهَا 700 مِي وَوَقَفَتْ أَمَامَ بَائِعِ الْمَوَادِّ الْبِلَاسْتِيكِيَّةِ .

التَّعْلِيمَةُ 1 : أَسَاعِدْهَا عَلَى أُقْتِنَاءِ بَعْضِ الْمَوَادِّ الْبِلَاسْتِيكِيَّةِ بِمَا لَدَيْهَا مِنْ نُقُودٍ .  
- أَطْرَحُ 3 إِمْكَانِيَّاتٍ .



تَسْتَطِيعُ رِيمُ أَنْ تَشْتَرِيَ :

1 -

2 -

3 -

التَّعْلِيمَةُ 2 : هَلْ يُمَكِّنُ لَرِيمَ بِمَا عِنْدَهَا مِنْ نُقُودٍ شِرَاءَ الْمِرْزَهْرِيَّةِ وَالْمِرْآةِ مَعًا ؟

نَعَمْ	لَا

- أَضَعُ الْعَلَامَةَ ( X ) فِي الْخَانَةِ الْمُنَاسِبَةِ :

- أُعَلِّلُ إِجَابَتِي :