


مَحَطَّة اِدْمَاجِيَّة

1. اَبْحَثْ عَنِ الْعَدَدِ الْمُنَاسِبِ:

$$100 = \dots + 80$$

$$100 = \dots + 56$$

2. اَكْمَلْ بِالْعَدَدِ الْمُنَاسِبِ:



3. اَنْجِزْ الْعَمَلِيَّاتِ التَّالِيَةَ:

$$\begin{array}{r} 38 \\ + 26 \\ \hline \end{array}$$

$$\begin{array}{r} 99 \\ - 68 \\ \hline \end{array}$$

$$\begin{array}{r} 68 \\ - 32 \\ \hline \end{array}$$

4. أ. يملك جاسر هذا المبلغ:



4. أ. أخصب:

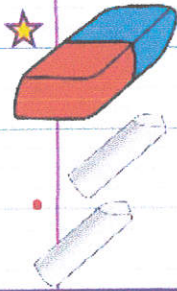
يملك جاسر: مي

4. ب. اشترى جاسر مفحاة بـ 35 مي و طباشيرا بـ 28 مي، أخصب ثمنهما:

+

—

★ ثمن ما شراء جاسر:

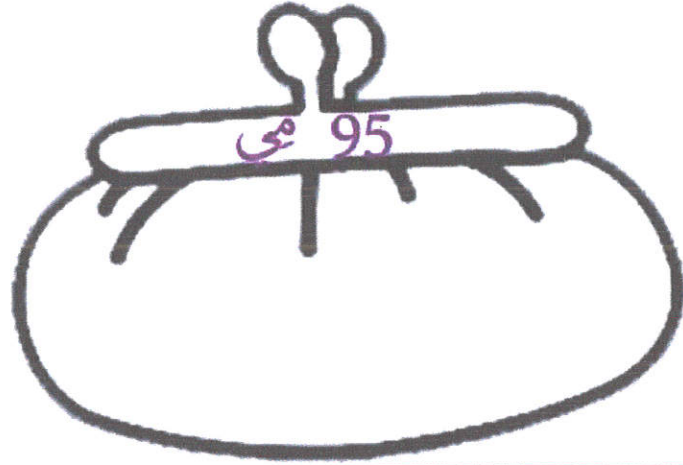


4. ج. أخصب المبلغ الذي بقي لجاسر:

★ بقي لجاسر:

—

5.أ. أخرج خليل من حصّالته 95 مي، أمثل هذا المبلغ:



5.ب. اشترى خليل مصاصة بـ 55 مي و كُجّة يقلّ ثمنها عن ثمن المصاصة بـ 25 مي:



? مي



55 مي

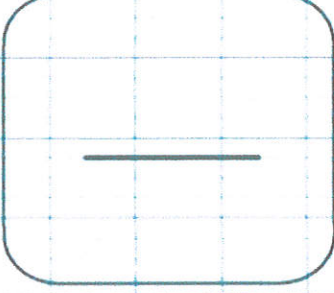
❖ أحسب ثمن الكُجّة:

	<p>★ ثَمَنُ الكُجّة:</p>
--	--------------------------

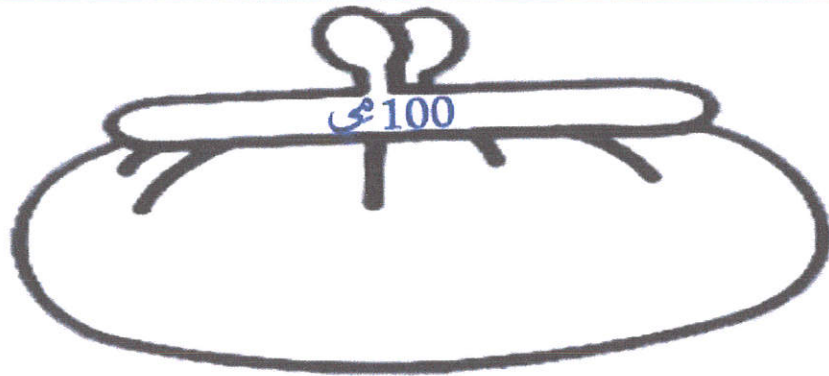
❖ أحسب ثمن المُشترَيَات:

	<p>★ ثَمَنُ المُشترَيَات:</p>
--	-------------------------------

5.ج. أخصب المبلغ المتبقي لخليل:

	<p>بقي لخليل:</p>
---	-------------------

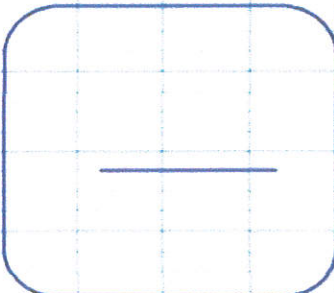
6.أ. أما زينب فقد أخرجت من حصالتها 100 مي، أمثل هذا المبلغ بـ 5 قطع:



6.ب. أرادت شراء قطعة بسكويت فطلب منها التاجر أن تكمل 100 مي، أطرخ السؤال المناسب للوضعية:

★

6.ج. أجب لفظيًا عن السؤال و أنجز العملية أفقيًا و عموديًا:

	<p>.</p> <p>.</p>
---	-------------------