

الاسم:

اللقب:

القسم:

1. نظمت مدرستنا رحلة إلى معرض الكتاب فخصص المدير 400 د لشراء قصص لإثراء المكتبة و 500 د لشراء موسوعات علمية.

• أحسب المبلغ الذي خصصه المدير لهذا المعرض في الجملة:


2. عند الوصول توزع المشاركون إلى فريقين. اشترى الفريق الأول موسوعات بللغة العربية بـ 200 د و موسوعات بللغة الفرنسية بـ 100 د

• أحسب ثمن الموسوعات في الجملة:


❖ اشترى الفريق الثاني قصصاً ثمنها أقل من ثمن الموسوعات في الجملة بـ 100 د.

• أحسب ثمن القصص:

• أحسب ثمن مشتريات الفريقين:



• أحسب المبلغ المتبقي:



3. أراد المدير شراء أقراص ليزرية ثمنها 79 د فمحه البائع تخفيضاً قدره 23 د.

• أطرح سؤالاً مناسباً للوضعية:

• أجب لفظياً عن السؤال الذي طرحته و أنجز العملية المناسبة:



الاسم: .....

اللقب: .....

القسم: .....

❖ أعطى المدير للبائع 88 د.


• أحسب المبلغ المتبقي للمدير:

4. يملك عليّ و هو أحد المشاركين في الرحلة المبلغ التالي:



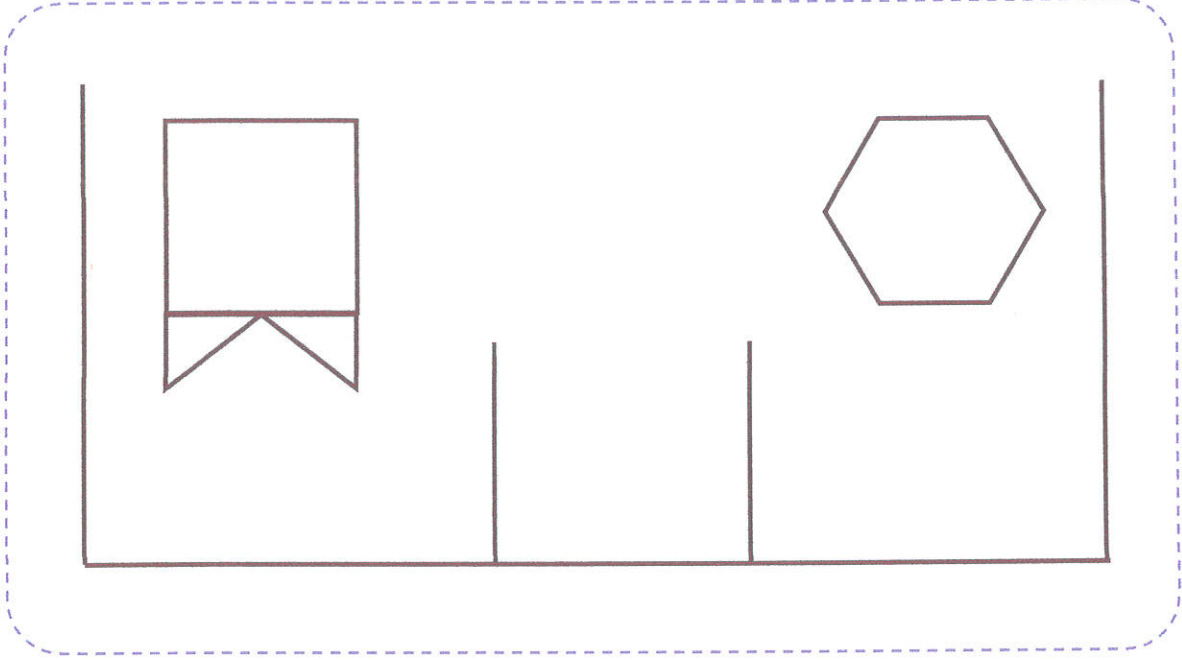
اشترى مجموعة من الأقلام بـ 300 مي.

• أمثل ثمن الأقلام بأقل عدد ممكن من القطع النقدية:



• أحسب المبلغ المتبقي لعلّي بعد شراء الأقلام:

5. هذه الأوجه الأمامية لمعرض الكتاب.



• أضع علامة (x) داخل كل مُضَلَعٍ في الأوجه:

• أكمل رسم رُباعي أضلاع في الرسم أعلاه:

• أرسم خماسي أضلاع في الأسفل بِسُتَعْمَالِ الْمِسْطَرَّةِ:

