

اختبار الثلاثي الثالث في الرياضيات - تدريب عدد 3 -

1. حساب ذهني


1. ألاحظ ثم أكمل:



2. أكمل بالعدد المناسب:



3. أمثل حسب المطلوب:



1. أنجز العمليات التالية:

$$\begin{array}{r} 928 \\ - 507 \\ \hline \dots \end{array}$$

$$\begin{array}{r} 785 \\ + 138 \\ \hline \dots \end{array}$$

2


★ تملك مريم 490 مي. زادتها أمها 385 مي.
أ. أبحث عن المبلغ الذي تملكه مريم:

★ توجهت إلى الكُتبية و اشتريت الأدوات الهندسية التالية:

285 مي



220 مي




335 مي



ب. أبحث عن ثمن الأدوات الهندسية:

ج. أبحث عن المبلغ المتبقي لمريم:

مَا يَمْلِكُهُ جَاسِرُ:



..... مي


مَا يَمْلِكُهُ خَلِيلُ:



..... مي

ب. كم تزيد الأم لجاسر حتى يصير المقدار المالي الذي يملكه مساوياً
للمقدار المالي الذي يملكه خليل؟

ج. أمثل المبلغ الذي رادته الأم لجاسر بأقل عدد ممكن من القطع:



بِمُنَاسَبَةِ عِيدِ الْأُمّهَاتِ أَرَادَتْ زَيْنَبُ شِرَاءَ هَذِهِ الْبَاقَةِ مِنَ الْأَزْهَارِ:



جَمَعَتْ مَا تَمَلِكُ مِنْ نُقُودٍ فَتَحَصَلَتْ عَلَى 660 مِي

أَطْرَحُ السُّؤَالَ الْمُنَاسِبَ لِلْوَضْعِيَّةِ

ب. أَجِيبُ لَفْظِيًّا وَحِسَابِيًّا عَنِ السُّؤَالِ الَّذِي طَرَحْتُهُ:

☆

☆