
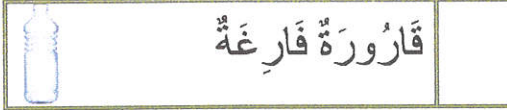


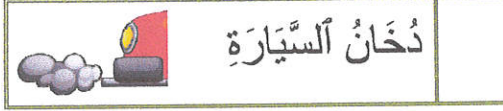
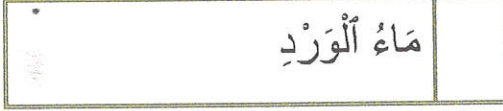

إِخْتِبَارُ الثَّلَاثِي الثَّانِي فِي الْإِيقَاطِ الْعِلْمِيِّ

1. أَضَعُ عِلَامَةً (X) أَمَامَ الْمَوَادِّ الَّتِي تُوَافِقُ كُلَّ خَاصِيَّةٍ: (4 ن)


■ مَوَادٌّ لَا تَأْخُذُ شَكْلَ الْوِعَاءِ الَّتِي تَحْوِيهِ:



■ مَوَادٌّ لَهَا حَجْمٌ ثَابِتٌ:



■ مَوَادٌّ لَا يُمَكِّنُ مَسْكُهَا:



■ مَوَادٌّ لَهَا شَكْلٌ خَاصٌّ بِهَا:



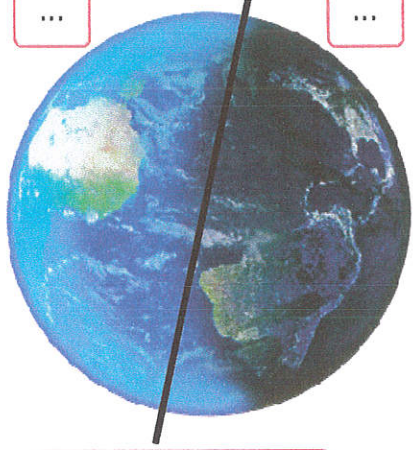
2. أَكْتُبُ "صَوَابٌ" أَوْ "خَطَأٌ": (1.5 ن)

.....
.....
.....

- الْمَشْرُوبَاتُ الْغَازِيَّةُ جِسْمٌ غَازِيٌّ يَأْخُذُ شَكْلَ الْوِعَاءِ الَّتِي يَحْوِيهِ.
- الْمِلْحُ جِسْمٌ جَامِدٌ لَهُ حَجْمٌ مُحَدَّدٌ وَ شَكْلٌ خَاصٌّ بِهِ.
- الْبِنَزِينُ جِسْمٌ غَازِيٌّ يَأْخُذُ شَكْلَ الْوِعَاءِ الَّتِي يَحْوِيهِ.

3. ✓ أتمم الكُرة الأرضيَّة وأرسمُ الشَّمسَ في المَكانِ المُناسبِ: (1 ن)


✓ أكتبُ رقمَ كُلِّ صورةٍ في مَكانِها المُناسبِ: (1 ن)



...

...

الكُرةُ الأرضيَّةُ



2



1

✓ أربطُ بِسَهمِ كُلِّ إِفادَةٍ بِمَا يَناسبُ: (2 ن)

الليَّيلَ

النَّهارَ

تَعاقِبُ اللَّيْلِ وَ النَّهارِ

يَوْمًا كَامِلًا


الْجِهَةُ الْمَضَاءَةُ تُمَثِّلُ

الْجِهَةُ الْمُظْلِمَةُ تُمَثِّلُ

يُكُونُ اللَّيْلُ وَ النَّهارُ

تَدُورُ الْأَرْضُ حَوْلَ نَفْسِهَا فَيَنْتُجُ عَن ذَلِكَ

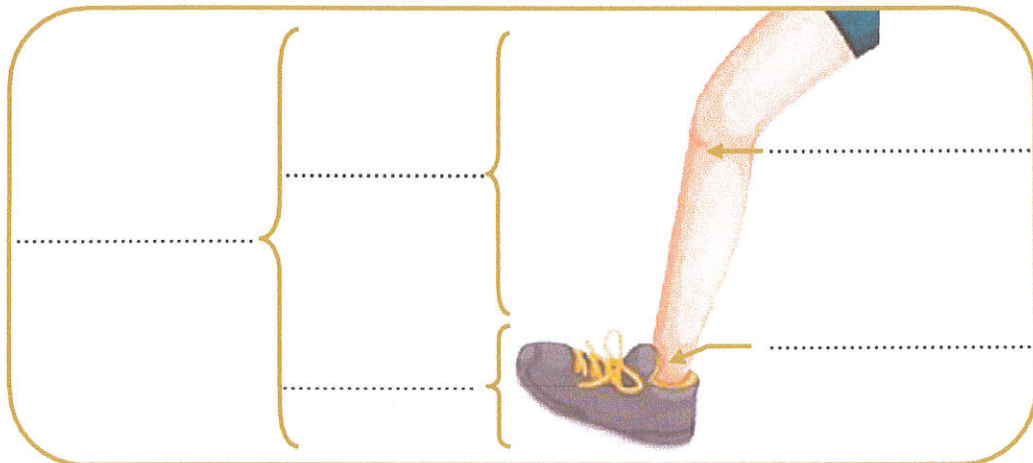

4. أَشْطَبُ الدَّخِيلِ ثُمَّ أَعْلَلُ إِجَابَتِي. (1.5 ن)



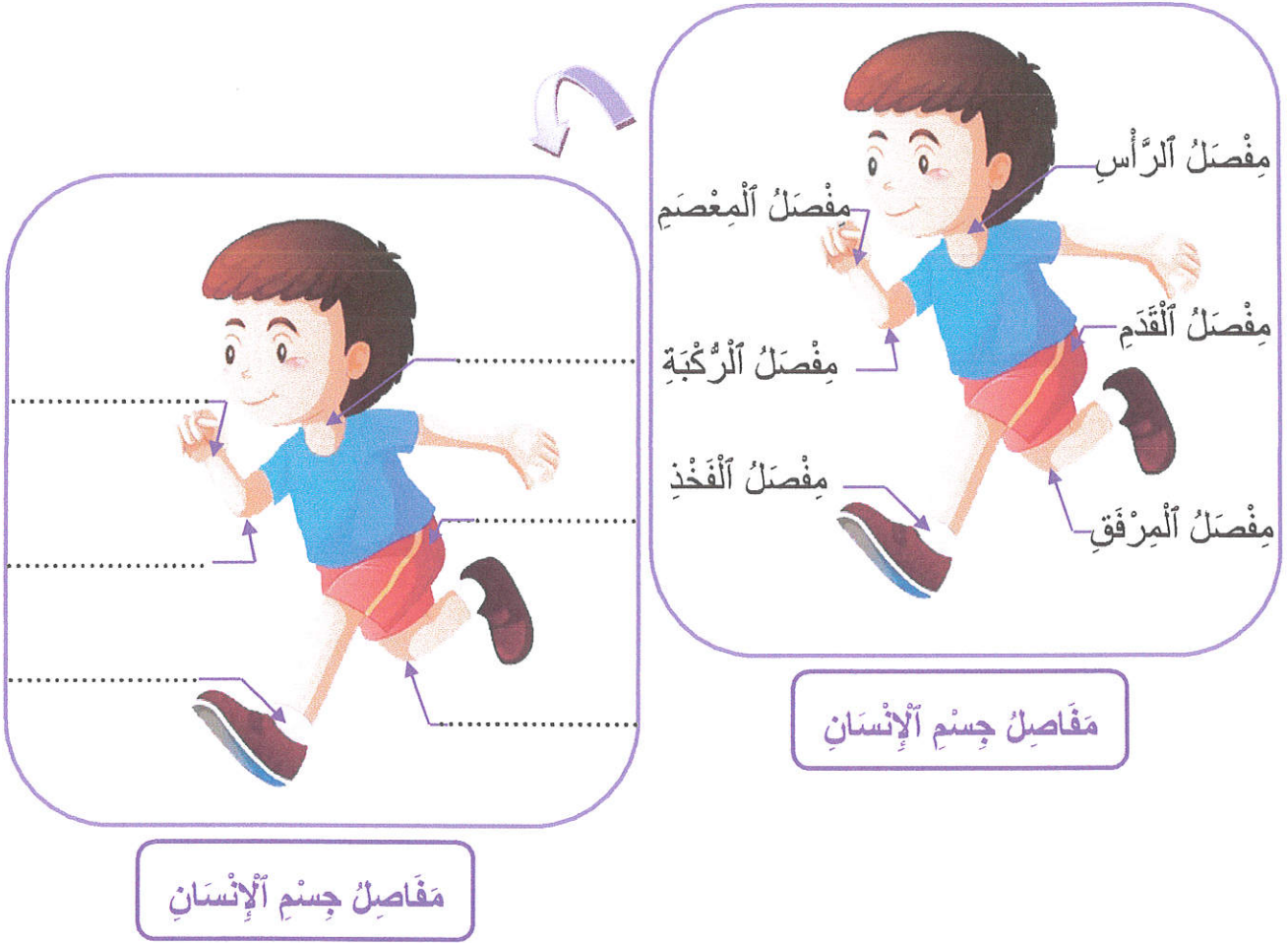
الدَّخِيلُ هُوَ: لِأَنَّهُ

5. أَكْمَلْ بِمَا يُنَاسِبُ مِنَ الْمَفْرَدَاتِ التَّالِيَةِ. (3 ن):

الْقَدَمُ - السَّاعِدُ - الطَّرْفُ السُّفْلِيُّ - مِفْصَلُ الرُّكْبَةِ - أَلْيَدُ - الرَّجْلُ -
مِفْصَلُ الْمِعْصَمِ - الطَّرْفُ الْعُلْوِيُّ - مِفْصَلُ الْمِرْفَقِ - مِفْصَلُ الْقَدَمِ



6. أَصْلِحِ الْأَخْطَاءَ فِي هَذَا الرَّسْمِ. (3 ن)



7. أَكْتُبِ "نَعَمْ" أَوْ "لَا" وَ أَصْلِحِ الْإِفَادَةَ الْخَاطِئَةَ وَ أَعْلِلِ الْإِفَادَةَ الصَّحِيحَةَ. (3 ن)

.....

■ يَتَكَوَّنُ جِسْمُ الْإِنْسَانِ مِنْ ثَلَاثَةِ أَقْسَامٍ رَيْسِيَّةٍ.

..... ←

.....

.....

■ يَتَكَوَّنُ الطَّرْفُ الْعُلْوِيُّ مِنْ رِجْلٍ وَ قَدَمٍ.

..... ←

.....